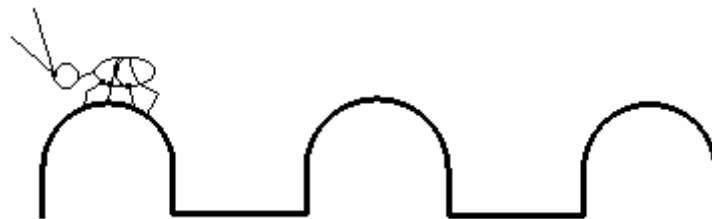


ESTACIÓ 1.- JARDÍ DE L'INSTITUT

1.- LA TANCA VERDA

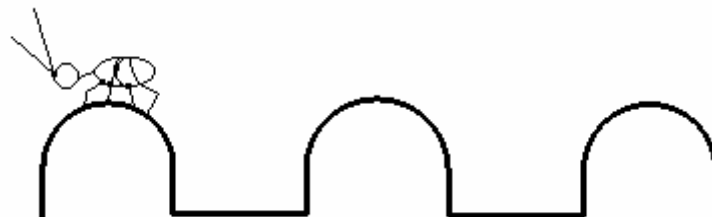
Observa detingudament la tanca del jardí situat en el pati de l'institut. Calcula la distància que recorrerà una formiga que es desplaça per la part superior de la tanca de color verd.



ESTACIÓN 1.- JARDÍN DEL INSTITUTO

1.- LA VALLA VERDE

Observa detenidamente la valla del jardín situado en el patio del instituto. Calcula la distancia que recorrerá una hormiga que se desplaza por la parte superior de la valla de color verde.





ESTACIÓ 2.- PUNT D'INFORMACIÓ TURÍSTICA PLATJA CULLERA

2.- ELS FORATS DE LES PAPERERES

Calcula el nombre de forats que té una de les diferents papereres que hi ha en el passeig





ESTACIÓN 2.- PUNTO DE INFORMACIÓN TURÍSTICA PLAYA

2.- LOS AGUJEROS DE LAS PAPELERAS

Calcula el número de agujeros que tiene una de las diferentes papeleras que hay en el paseo.





ESTACIÓ 3.- PARC SANT ANTONI

3.- ÀREA BLAVA

Calcula l'àrea pintada de blau situada en la zona d'activitats per a la tercera edat.





ESTACIÓN 3.- PARQUE DE SAN ANTONIO

3.- ÁREA AZUL

Calcula el área pintada de azul, situada en la zona de actividades para la tercera edad.






ESTACIÓ 4.- PLAÇA ANDREU PILES

4.- MIRANT EL SÒL

Dibuixa totes les figures geomètriques que descobriques observant el sòl





ESTACIÓ 4.- PLAZA ANDRÉS PILES

4.- MIRANDO EL SUELO

Dibuja todas las figuras geométricas que descubras observando el suelo



ESTACIÓ 5.- EL MERCAT

5.- AMB NÚMEROS ROMANS

En l'entrada del parc es troba una placa d'agraïment. Has d'escriure tots els números que dividixen exactament al número que indica l'aniversari, però ho has de fer amb números romans.



ESTACIÓN 5.- EL MERCADO

5.- CON NÚMEROS ROMANOS

En la entrada del parque se encuentra una placa de agradecimiento. Debes escribir todos los números que dividen exactamente al número que indica el aniversario, pero lo debes hacer con números romanos.

